

单元素养测评(一)

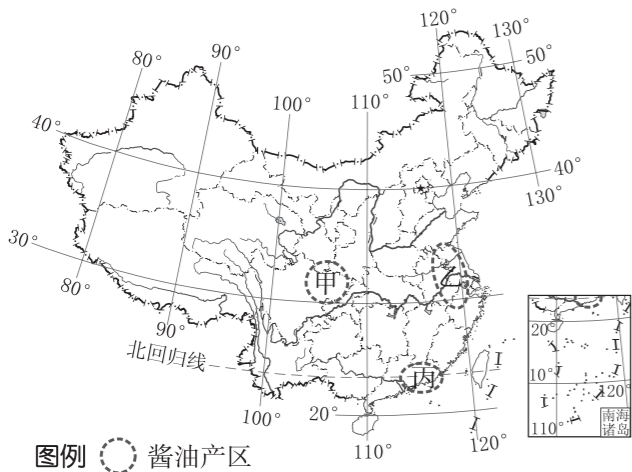
第一章 认识区域

本试卷分第I卷(选择题)和第II卷(非选择题)两部分。第I卷48分,第II卷52分,共100分。

第I卷 (选择题 共48分)

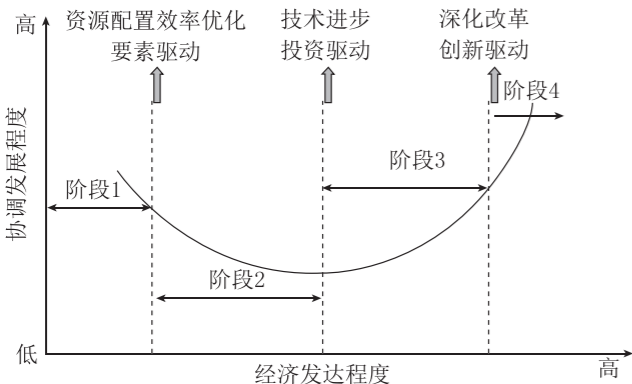
一、选择题(本大题共16小题,每小题3分,共48分。每小题列出的四个备选项中只有一个是符合题目要求的,不选、多选、错选均不得分)

好的酱油产地需要气候温暖、光照充足,才能让黄豆充分发酵,使酱油更香醇;水和食盐资源也很重要,加上充足的黄豆供应,才能酿出好酱油。下图为我国酿造酱油的三大主要产区示意图。据此完成1~2题。



- 三大产区均主要位于 ()
A. 西北地区 B. 北方地区
C. 南方地区 D. 青藏地区
- 与甲产区相比,丙产区生产酱油的有利自然条件有 ()
①海盐资源丰富 ②海洋运输便利 ③靠近大豆产地 ④光照充足
A. ①② B. ①③ C. ②④ D. ①④

[2025·广东佛山高二月考]从国际发展经验看,后发国家实现“非常落后→后发赶超→较高水平”的过程,需统筹经济发展与社会公平,区域协调发展呈现“U”形四阶段特点:低水平协调发展、非协调发展、转型协调发展、高水平协调发展。下图示意区域协调发展四阶段。据此完成3~4题。



- 当前,我国发展阶段正处于 ()
A. 阶段1 B. 阶段2 C. 阶段3 D. 阶段4
- 与阶段2相比,阶段3 ()
A. 技术密集型产业占比更高
B. 矿产资源主导区域经济发展
C. 区域协调发展的程度变低
D. 劳动力密集型产业占比更高

[2025·江西赣州高二月考]2023年4月,“海南自贸区将在2025年底前适时启动全岛封关运作”上了热搜。中国(海南)自由贸易试验区的实施范围为海南岛全岛,是我国面积最大的自由贸易区,全岛封关(即海南全岛成为一个“境内关外”区域,实行“一线放开、二线管住、岛内自由”的货物进出口管理制度)后,海南岛将逐渐发展成国际性的自由贸易区。据此完成5~6题。

- 作为一个经济区,海南自贸区封关后 ()
A. 范围大大扩大 B. 边界过渡性更加明显
C. 自然要素均一 D. 对外经济联系更便捷
- 下列关于海南自贸区建设的区位优势,说法正确的是 ()
A. 经济发达,工业化水平高
B. 高等院校众多,科研力量雄厚
C. 连接东北亚和东南亚的区域中心,地理位置优越
D. 劳动力质优价廉

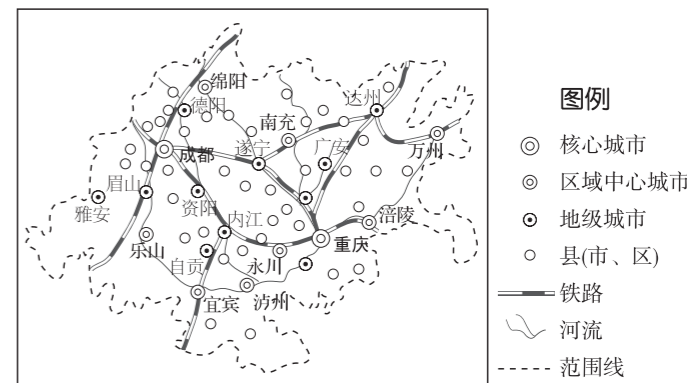
[2025·湖南长沙一中高二期末]悉尼是澳大利亚第一大城市,预测未来人口将从520万增长至800万(2056年)。《大悉尼区域规划2056》提出了东部—港城(以既有CBD为核心)、中部—河城(以帕拉玛塔市为核心)和西部—园城(以新建西悉尼机场为核心)三城并驾齐驱的空间构想(如图),实现城市从“圈层蔓延”到“轴向延伸”的弹性生长。据此完成7~9题。



- 未来悉尼规划为三城并驾齐驱的空间构想的首要目的是 ()
A. 应对人口增长 B. 提升国家形象
C. 加强区域管理 D. 吸引国家投资
- 悉尼要实现空间结构的“轴向延伸”应优先 ()
A. 保护生态环境 B. 调整产业结构
C. 改善居住条件 D. 增强交通联结

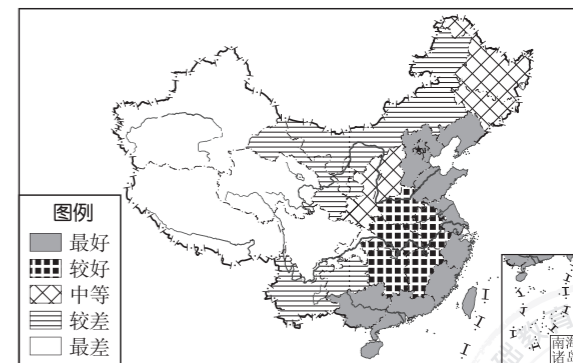
- 功能互补、错位发展的多中心城市结构能最大程度提高各类资源的配置效率。东部、中部、西部三城的产业功能定位分别是 ()
①物流、交通、旅游业 ②创新产业、金融服务 ③健康、教育、制造业
A. ①②③ B. ②③①
C. ③①② D. ①③②

[2025·河北唐山高二月考]“双城经济圈”是指某区域由两个中心城市构成核心,通过“双核引领,区域联动”的方式促进所在区域发展的一种空间结构现象。成渝地区双城经济圈位于长江流域上游,是我国西南地区发展水平最高、发展潜力较大的地域之一。下图示意成渝地区双城经济圈空间格局。据此完成10~11题。



- 成渝地区双城经济圈出现两个核心城市的原因是两城市 ()
A. 经济发展互补 B. 相互竞争激烈
C. 地域文化迥异 D. 产业结构趋同
- 成渝地区双城经济圈的建设有利于 ()
①西南地区经济发展自成一体 ②促进经济圈内城市协同发展
③增强成都和重庆的辐射功能 ④促进工业向成都和重庆集聚
A. ①② B. ①④
C. ②③ D. ③④

下图为我国各省级行政区综合发展条件分布示意图。读图,完成12~13题。

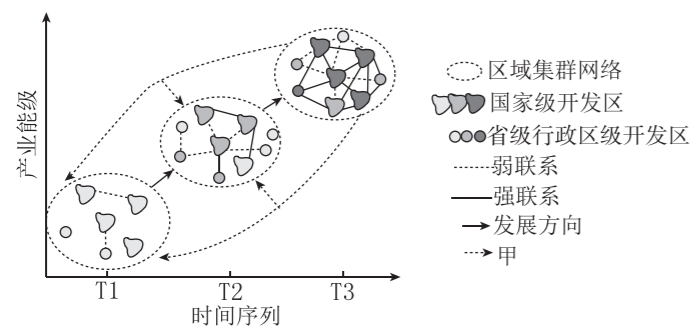


- 平衡区域发展条件差异的有效措施是 ()
A. 鼓励新兴产业向欠发达地区转移
B. 鼓励劳动力人口向发达地区迁移
C. 跨区域调配资源,加强区域合作
D. 优化产业结构,提高城镇化水平

13. 不同的发展阶段,地理环境对农业生产活动的影响也不同,这充分说明了区域地理环境对人类活动的影响是随着社会经济、技术等因素的改变而改变的。制约长江中下游平原发展的困难被克服,甚至成为促进因素,主要发生在 ()

- ①船舶被广泛用作交通工具以后 ②农业生产工具的改进和改良之后 ③开发的早期阶段 ④中华人民共和国成立后
A. ①② B. ②③ C. ①④ D. ③④

开发区是特定产业集群或多个相关产业集群的集合物。世界级产业集群在很大程度上表现为不同区域开发区之间产业互动结网形成的相互关联的区域集群网络。开发区的产业集群培育过程可划分为三个阶段(如图,国家级和省级行政区级开发区的图例颜色由浅到深分别表示其发展的三个阶段,甲箭头示意处于 T3 阶段的开发区与处于 T1、T2 阶段的开发区之间的联系)。据此完成 14~16 题。



14. 早期阶段 ()

- A. 开发区数量少,以国家级开发区为主
B. 相邻开发区之间产业联系较强
C. 开发区数量少,但发展较成熟
D. 产业能级低,但集群网络完善

15. 有相互联系的不同开发区之间 ()

- A. 产业不宜相关 B. 人口不宜密集
C. 距离不宜过远 D. 级别差距不宜过大

16. 图中甲箭头代表的可能是 ()

- A. 物流运输 B. 人口迁移 C. 产业升级 D. 产业转移

请将选择题答案填入下表:

题号	1	2	3	4	5	6	7	8	9
答案									
题号	10	11	12	13	14	15	16	总分	
答案									

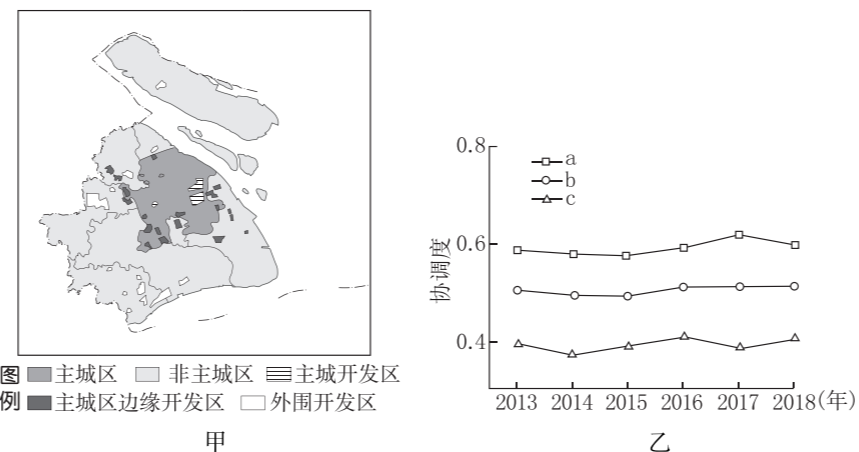
第 II 卷 (非选择题 共 52 分)

二、非选择题(共 52 分)

17. (22 分)[2025·河南郑州一中等校高二调研] 阅读图文材料,完成下列问题。

开发区作为区域经济活动的重要载体,往往以经济增长为核心,而伴随发展定位及宏观经济态势的变化,其可持续发展面临挑战。图甲为 2013—2018 年上海市开发区空间分布示意图,按地理位置可分为

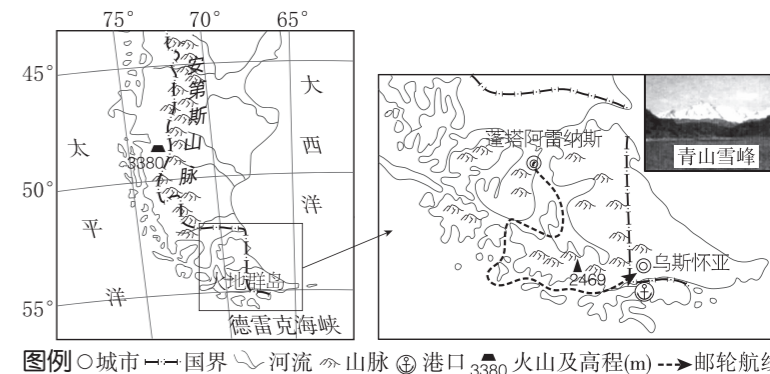
主城开发区、主城区边缘开发区和外围开发区;图乙为 2013—2018 年上海市各类型开发区可持续发展协调度(与经济发展水平密切相关)状况示意图,数值越大,表明区域可持续发展协调度越高。



(1) 推测 a 表示的开发区类型,并说明理由。(6 分)

(2) 与主城开发区相比,说出上海市主城区边缘开发区和外围开发区可持续发展面临的共同挑战。(6 分)

(3) 请你为促进上海市开发区协调发展献计献策。(10 分)



材料二 智利风能资源丰富,2022 年,智利计划投资 15 亿美元和中国电网合作在其南部建大型风电站,以带动发电及相关产业的发展,将资源优势转化为经济优势。

(1) 描述火地群岛的地理位置特征。(9 分)

(2) 根据图文材料及所学知识分析沿途“青山雪峰”景观的形成原因。(9 分)

(3) 评价智利在其南部建大型风电站的自然条件。(12 分)

18. (30 分) 阅读图文材料,完成下列要求。

材料一 “2021 年 2 月 20 日,晴,我从智利的蓬塔阿雷纳斯搭乘豪华邮轮前往火地群岛探险旅游。几个小时后,邮轮在蜿蜒曲折的海峡内航行,海面上风大浪高。远处一座座青山雪峰,冰川遍布,蔚为壮观。邮轮到达乌斯怀亚港已然风平浪静,大大小小的船只星罗棋布,海鸟自由翱翔,与岸上色彩鲜艳的小木屋构成绚烂的画卷。”以上文字摘自某游记。下图示意火地群岛位置及游记中的景观图片。